

ВСЕРОССИЙСКАЯ ОЛИМПИАДА ШКОЛЬНИКОВ ПО ОСНОВАМ БЕЗОПАСНОСТИ  
ЖИЗНЕДЕЯТЕЛЬНОСТИ (ШКОЛЬНЫЙ ЭТАП)

**ТЕОРЕТИЧЕСКИЙ ТУР**

старшая возрастная группа (5-6 классы)

**Код/шифр участника**

--	--	--	--	--

Уважаемый участник Олимпиады!

Вам предстоит выполнить теоретические (письменные) и тестовые задания.

Время выполнения заданий теоретического тура 2 - академических часа (90 минут).

Выполнение теоретических (письменных) заданий целесообразно организовать следующим образом:

- не спеша, внимательно прочитайте задание и определите, наиболее верный и полный ответ;
- отвечая на теоретический вопрос, обдумайте и сформулируйте конкретный ответ только на поставленный вопрос;
- если Вы отвечаете на задание, связанное с заполнением таблицы или схемы, не старайтесь детализировать информацию, вписывайте только те сведения или данные, которые указаны в вопросе;
- особое внимание обратите на задания, в выполнении которых требуется выразить Ваше мнение с учетом анализа ситуации или поставленной проблемы. Внимательно и вдумчиво определите смысл вопроса и логику ответа (последовательность и точность изложения). Отвечая на вопрос, предлагайте свой вариант решения проблемы, при этом ответ должен быть кратким, но содержать необходимую информацию;
- после выполнения всех предложенных заданий еще раз удостоверьтесь в правильности выбранных Вами ответов и решений.

Выполнение тестовых заданий целесообразно организовать следующим образом:

- не спеша, внимательно прочитайте тестовое задание;
- определите, какой из предложенных вариантов ответа наиболее верный и полный;
- обведите кружком букву, соответствующую выбранному Вами ответу;
- продолжайте таким образом работу до завершения выполнения тестовых заданий;
- после выполнения всех предложенных заданий еще раз удостоверьтесь в правильности выбранных Вами ответов;
- если потребуется корректировка выбранного Вами варианта ответа, то неправильный вариант ответа зачеркните крестиком, а новый выбранный ответ обведите кружком.

Предупреждаем Вас, что:

- при оценке тестовых заданий, где необходимо определить один правильный ответ, 0 баллов выставляется как за неверный ответ, а также, если участником отмечены несколько ответов (в том числе правильный), или все ответы;

- при оценке тестовых заданий, где необходимо определить все правильные ответы, 0 баллов выставляется, если участником отмечено большее количество ответов, чем предусмотрено в задании (в том числе правильные ответы) или все ответы.

Задание теоретического тура считается выполненным, если Вы вовремя сдаете его членам жюри. Максимальная оценка - 73 балла.

*Желаем вам успеха!*






Общая оценка результата выполнения участником  
заданий теоретического тура

\_\_\_\_\_ баллов

Председатель жюри \_\_\_\_\_

### Задание 1

Каждый визуальный сигнал «поверхность – воздух», применяемый при поисково-спасательных операциях, имеет определённое значение. Установите соответствие между изображением сигнала и его значением.

	«Нет, или отрицательно»
	«Ничего не обнаружено, продолжаем поиски»
	«Неспособны двигаться, требуется медицинская помощь»
	«Двигаемся в этом направлении»
	«Получены сведения, что воздушное судно находится в этом направлении»
	«Требуется помощь»
	«Требуются оружие и боеприпасы»

**Оценка задания:** Максимальная оценка за правильно выполненное задание - **10 баллов**, по 2 балла за каждую верную позицию.

**Оценочные баллы:** максимальный – 10 баллов;

**фактический** - \_\_\_\_\_ **баллов**

## Задание 2

Миша пролил чай на ногу. Определите степень ожога и укажите алгоритм оказания первой помощи при ожогах.



---

---

---

---

---

---

---

---

---

---

**Оценка задания:** Максимальная оценка за правильно выполненное задание- **18 баллов**

**Оценочные баллы:** максимальный – 18 баллов;

**фактический** - \_\_\_\_\_ **баллов**

### Задание 3

Перед поворотом и остановкой велосипедист обязан подавать сигналы. Установите соответствие между изображением сигнала и его значением: «поворот налево», «поворот направо», «торможение».



поворот налево
поворот направо
торможение






**Оценка задания:** Максимальная оценка за правильно выполненное задание- **10 баллов**, по 2 балла за каждую верную позицию.

**Оценочные баллы:** максимальный – 10 баллов;

**фактический** - \_\_\_\_\_ баллов

**Задание 4.**

Назовите виды костров

№	Костер	Название
1		
2		
3		
4		
5		

**Оценка задания:** Максимальная оценка за правильно выполненное задание- 5 баллов, по 1 баллу за каждую верную позицию.

**Оценочные баллы:** максимальный – 5 баллов;

**фактический - \_\_\_\_\_ баллов**

### Тестовые задания

За каждый правильный ответ начисляется 2 балла

**1. Правилами купания в водоёмах запрещается**

- а) плавать в местах, где большая глубина
- б) плавать в водоёмах с температурой воды ниже 20 °С
- в) заплывать за буйки
- г) плавать в водоёмах с течением

**2. Непрерывная работа школьника за компьютером не должна превышать**

- а) 5 минут
- б) 20 минут
- в) 40 минут
- г) 1 час

**3. Ночью определить стороны света можно по Полярной звезде.**

**Перпендикуляр, проведённый к земле от Полярной звезды, покажет Вам направление на:**

- а) север
- б) юг
- в) запад
- г) восток

**4. Разъясните содержание сигнала «Внимание всем!»**

- а) предупреждает население о непосредственной угрозе нападения противника
- б) подаётся с целью предупредить население о необходимости принять меры защиты от радиоактивных веществ
- в) подаётся с целью предупредить население об аварии, катастрофе,

стихийном бедствии

г) извещает население о том, что непосредственной угрозы аварии, катастрофы, стихийного бедствия больше нет

**5. Гроза застала туриста в лесу. Какое место для укрытия будет наиболее безопасным?**

а) под большим мощным деревом

б) участок низкорослого леса, вдали от сосен, дубов и тополей

в) в центре поляны

г) на окраине леса

**6. Определите ошибочный пункт в перечне правил безопасного поведения при возникновении пожара в троллейбусе.**

а) привлечь внимание пассажиров к возгоранию

б) закрыть нос и рот рукавом одежды

в) выбить стёкла ногами

г) покинуть салон через окно аккуратно, сползая по стенке и ставя одну

ногу на носок

**7. День солидарности в борьбе с терроризмом отмечается**

а) 3 сентября

б) 2 сентября

в) 8 сентября

г) 1 сентября

**8. Верны ли приведённые суждения об утомлении?**

**А) Утомление – это временное снижение работоспособности.**

**Б) Признаки утомления исчезают после короткого отдыха.**

- а) верно только А
- б) верно только Б
- в) верны оба суждения
- г) оба суждения неверны

**9. По какому номеру телефона есть возможность вызвать скорую медицинскую помощь даже при отсутствии денежных средств на вашем счёте, при заблокированной SIM-карте и при отсутствии SIM-карты телефона?**

- а) 103
- б) 102
- в) 104
- г) 112

**10. Какой из способов остановки кровотечения является основным при венозном кровотечении?**

- а) наложение жгута
- б) пальцевое прижатие артерии
- в) максимальное сгибание конечности
- г) наложение давящей повязки

**Определите все правильные ответы.**

За каждый правильный ответ начисляется 4 балла.

**11. В случае наличия элементов дороги, предназначенной для передвижения пешехода, он имеет право передвигаться по**

- а) тротуару
- б) обочине



- в) велосипедной дорожке
- г) пешеходной дорожке
- д) краю проезжей части

**12. К первичным средствам пожаротушения относят**

- а) переносные и передвижные огнетушители
- б) системы оповещения о пожаре
- в) спринклерные системы автоматического пожаротушения
- г) покрывала для изоляции очага возгорания
- д) дренчерные системы автоматического пожаротушения

**13. Признаками ухудшения погоды могут служить**

- а) перистые облака
- б) волнистые (высококучевые) облака
- в) повышение давления
- г) вечерняя заря ярко-красного цвета
- д) изменения направления ветра, уменьшения его скорости

**14. Укажите правила безопасного поведения при сильной жаре.**

- а) надевать лёгкую светлую одежду из синтетических тканей
- б) стараться двигаться быстро, уменьшая время открытого нахождения на солнце
- в) употреблять больше воды
- г) использовать свободную воздухопроницаемую одежду из хлопка
- д) чаще пить газированные напитки

**15. Выберите признаки изменения ненастной погоды на ясную.**

- а) температура воздуха понижается
- б) осадки временами усиливаются; во время дождя появляется радуга
- в) давление низкое, в течение суток не меняется
- г) солнце садится за тучи, заря красная, ночью звёзд и луны не видно

или вокруг них наблюдается венец

д) соцветия растений закрыты и опущены

**16. Какие рекомендации по безопасному поведению целесообразно выполнять при аварии на взрывоопасном объекте?**

а) дверь в задымлённое помещение открывать быстро, рывком

б) для ускорения покидания объекта воспользоваться лифтом

в) при выходе из здания по задымлённой лестнице продвигаться вдоль стены

г) при загорании одежды быстро бежать к выходу из здания

д) выходить из зоны пожара в наветренную сторону

**17. По каким из указанных номеров телефонов возможно сообщить в правоохранительные органы в случае обнаружения подозрительного предмета?**

а) 101

б) 04

в) 112

г) 103

д) 02

**18. Что из перечисленного относится к пищевым веществам?**

а) хлеб

б) масло

в) витамины

г) рыба

д) углеводы

**19. Какие признаки, наблюдаемые ниже места наложения жгута (кроме остановки кровотечения), свидетельствуют о том, что жгут наложен правильно?**

а) отёк конечности

- б) побледнение кожи конечности
- в) синюшный оттенок кожи
- г) отсутствие пульса
- д) онемение конечности в течение первых пяти минут

**20. При каких видах травм может наблюдаться укорочение повреждённой конечности?**

- а) ушиб
- б) растяжение
- в) разрыв связок
- г) перелом
- д) вывих